

**TISCHLER?**

**JA!**

# Aufnahmebogen

(Lehrlingstest)

Landesinnung Wien der Tischler

Name des Kandidaten: .....

Adresse: .....

Telefon / Fax: .....

E-Mail: .....

Bewertung Handwerkliche Fähigkeit: .....

Bewertung Test: .....

Bewertung Allgemein: .....

.....

.....

**Aufnahmebogen (Lehrlingstest) der Landesinnung Wien der Tischler****MATHEMATIK**  
Teil 1**A) Rechnen ohne Taschenrechner:**

A1.)  $2.560 + 1578$

=

A2.)  $3.4456$   
 $+ 13.5678$

=

A3.)  $2.798 - 539$

=

A4.)  $15,56$   
 $- 0,98$

=

**Kopfrechnen:**

A5.)  $560 \times 2$

=

A6.)  $49 \times 5$

=

A7.)  $660 : 3$

=

A8.)  $8 \times 12$  zzgl. 10 %

=

A9.)  $600 + 20 \% \text{ Mwst.}$

=

(auf zv

## **MATHEMATIK**

### **Teil 2**

### **B) Schlußrechnungen:**

B1.) Berechne die erforderliche m<sup>2</sup> Menge an Parkettboden, welche für untenstehenden Raum, zuzüglich 10 % Verschnitt erforderlich ist.

Raumabmessung: Länge 12,5 m    Breite 2,5 m

Raumfläche: .....

10 % Verschnitt: .....

Gesamtbodenmenge: .....

B2.) Eine Maschine erzeugt in 60 Minuten 48 Stück Schneidbretter.  
Wie viel Stück erzeugt sie in 3 ½ Stunden?

B3.) **Ein** Dutzend Holzblöcke kosten **€ 90,-**.  
Wie hoch sind die Kosten für **3** Holzblöcke?

Rückseite zum Rechnen verwenden !

**Aufnahmebogen (Lehrlingstest) der Landesinnung Wien der Tischler****MATHEMATIK**  
Teil 3**C) Umrechnungsaufgaben**

C1.) 7500 kg = .....Tonnen

C2.) 2,5 m = .....mm

C3.) Wie schwer ist 1 m<sup>3</sup> Wasser =

.....kg

C4.) 0,75m<sup>3</sup> Wasser =wie viele Liter

..... Liter

C5.) Wie viel % sind 7 m von 350 m?

..... %

**Aufnahmebogen (Lehrlingstest) der Landesinnung Wien der Tischler****MATHEMATIK**  
**Teil 4****D) Schätzaufgaben**

- D) Ein PKW verbraucht für die Strecke Graz - Klagenfurt (150 km) 22 Liter Benzin. Wieviel Benzin verbraucht er unter gleichen Bedingungen für die Strecke Klagenfurt - Innsbruck (350 km) ?

51 Liter

44 Liter

69 Liter

61 Liter

Richtige Literzahl einkreisen!

**Aufnahmebogen (Lehrlingstest) der Landesinnung Wien der Tischler****DEUTSCH**  
**Teil 1****F) Rechtschreibung**

Einige der folgenden Worte sind falsch geschrieben, schreibe sie richtig daneben hin:

F1) Organization

F2) zerreisen

F3) erwidern

F4) Gebüren

F5) Holzleisste

**Aufnahmebogen (Lehrlingstest) der Landesinnung Wien der Tischler****DEUTSCH**  
Teil 2**G) Lückentest:****Wettkampf ins Jahr 2000**

„Wir werden den

in das Jahr

gewinnen!

Wissenschaftler sind der Ansicht. Nur sind

einige von ihnen nicht so

, denn sie kennen

auch die Gefahren, die damit

sind.

— Alle sinnvollen Wörter gelten als richtig!

**Bitte diese Seite neu gestalten!**

**Aufnahmebogen (Lehrlingstest) der Landesinnung Wien der Tischler****DEUTSCH**  
Teil 3**H) Fehlersuche:**

**Original:** Adalbert Fiessler  
Innsbruck, Friedrichstr. 17  
Tel. 734667

**Abschrift:** Adolberd Fiessler  
Insbruk, Friedriechst. 11  
Tell. 743676

*Den (die) Fehler in der Abschrift bitte durchstreichen!*

**Aufnahmebogen (Lehrlingstest) der Landesinnung Wien der Tischler*****DEUTSCH***  
**Teil 4****I) Freies Formulieren:**

„Wie stelle ich mir die Tischlerei vor, warum möchte ich diesen Beruf unbedingt erlernen? (Kurze Beschreibung; etwa 10 Sätze oder 20 Zeilen)

**Aufnahmebogen (Lehrlingstest) der Landesinnung Wien der Tischler**

***ALLGEMEINBILDUNG***  
**Teil 1**

**K) Die aktuelle Frage des Tages !**

Welchen Film haben Sie zuletzt gesehen?

.....

Welches Buch haben Sie zuletzt gelesen?

.....

Wann erfolgt die Umstellung von Sommer auf Winterzeit & umgekehrt?

.....

Sind die Börsenkurse derzeit:

STEIGEND: .....                      FALLEND: .....

Wie heißt der derzeitige Bundeskanzler: .....

Wie heißt der derzeitige Bundespräsident: .....

Wie viele Staaten umfasst die Europäische Union: .....

Nenne drei Flüsse in Österreich: .....

.....

**Aufnahmebogen (Lehrlingstest) der Landesinnung Wien der Tischler**

**ALLGEMEINBILDUNG**  
Teil 2

**Wie heißen die Landeswährungen folgender Länder ?**

J1 Schweiz

J2 Italien

J3 Rußland

J4 England

J5 USA

**Was bedeuten die folgenden Abkürzungen?**

J6 MWST

.....

J7 BMW

.....

J8 EU

.....

J9 ÖBB

.....

J10 GmbH

.....

**Aufnahmebogen (Lehrlingstest) der Landesinnung Wien der Tischler**

**ÖSTERREICH**

J9 Wie viel Einwohner hat Österreich derzeit ungefähr?

J10 Wie viele Bundesländer hat Österreich und wie heißen die Hauptstädte?

Anzahl der Bundesländer: .....

Auflistung der Hauptstädte: .....

.....

.....

.....

J11 An welche Länder grenzt das Bundesland Niederösterreich?  
(Bundesländer und Nachbarstaaten)

Nachbarstaaten: .....

.....

Bundesländer: .....

.....

.....

J12 Wie heißen die Nachbarstaaten Österreichs?

.....

.....

.....

**Aufnahmebogen (Lehrlingstest) der Landesinnung Wien der Tischler*****KONZENTRATION***

N1 Streiche alle Paare an, die in der oberen und unteren Zeile n i c h t gleich sind.

+\* OX \*\* ++ XO +\* OO +\* \*+ ++ OO \*\* OX XO ++ \*\* OX OX

+\* XO \*\* ++ XO \*+ XO +\* +\* ++ OX \*\* XO XO ++ +\* OX XO

**Aufnahmebogen (Lehrlingstest) der Landesinnung Wien der Tischler**

**LOGISCHES DENKEN**

**Zahlenreihen:**

Welche Zahl folgt?

L1)      6    9    12    15    18    21     

L2)      2    4    8    16    32    64     

**Gemeinsamkeiten:**

Welcher Begriff paßt hier nicht herein?



















L3    Hand            Kopf            Fuß            Turm            Bauch

L4    schmal            eckig            kurz            hoch            breit

Nicht passenden Begriff ankreuzen !

**abstrakte Logik:**

Zeichne die nächstfolgende Figur

						=====
						=====
						=====

**Aufnahmebogen (Lehrlingstest) der Landesinnung Wien der Tischler****ZEICHNEN**

M1) einen rechten Winkel

M2) zwei parallele Linien

M3) einen Würfel u. strichliere die verdeckten Kanten

M4) einen Kreis und setze die richtigen Formeln für Umfang bzw. Flächenberechnung ein.

Umfang:

.....

Fläche:

.....

M5) Freihand-Zeichnen:

1.) Zeichne eine 4-seitige Pyramide und strichliere die verdeckten Kanten.

2.) Zeichne in das vorgegebene Rad 8 Radspeichen ein.

